


Начинается урок,
Он пойдёт ребятам впрок.
Постарайтесь всё понять,
Чтобы задачи без труда решать,
Преобразовывать, считать,
Чертить, смекать и рассуждать.



$6+7 =$ И $3+9 =$ у

$60+3 =$ В $13-5 =$ П

$45-40 =$ Н $14-7 =$ х

$45-5 =$ н

$7+8 =$ и





$$(6+7)-5 = 8$$

$$(9-3)+7 = 13$$

$$14+(10+6) = 30$$

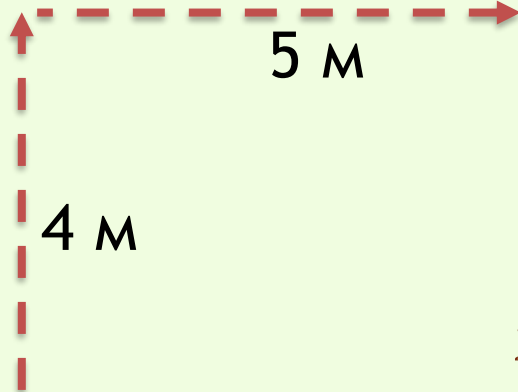
$$20-(3+5) = 12$$

Математический диктант

- число 80 уменьшить на 10
- запишите, чему равна сумма чисел 70 и 3
- какое число при счёте называют перед числом 25?
- запишите число, которое состоит из 1 десятка и 6 единиц
- первое слагаемое 20, второе слагаемое 3, чему равна сумма?
- я задумала число, прибавила к нему 7 и получила 15. Какое число я задумала?




$$4M + 5M + 8M = 17M$$






4 M

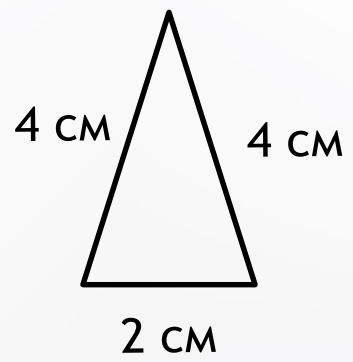
5 M

8 M

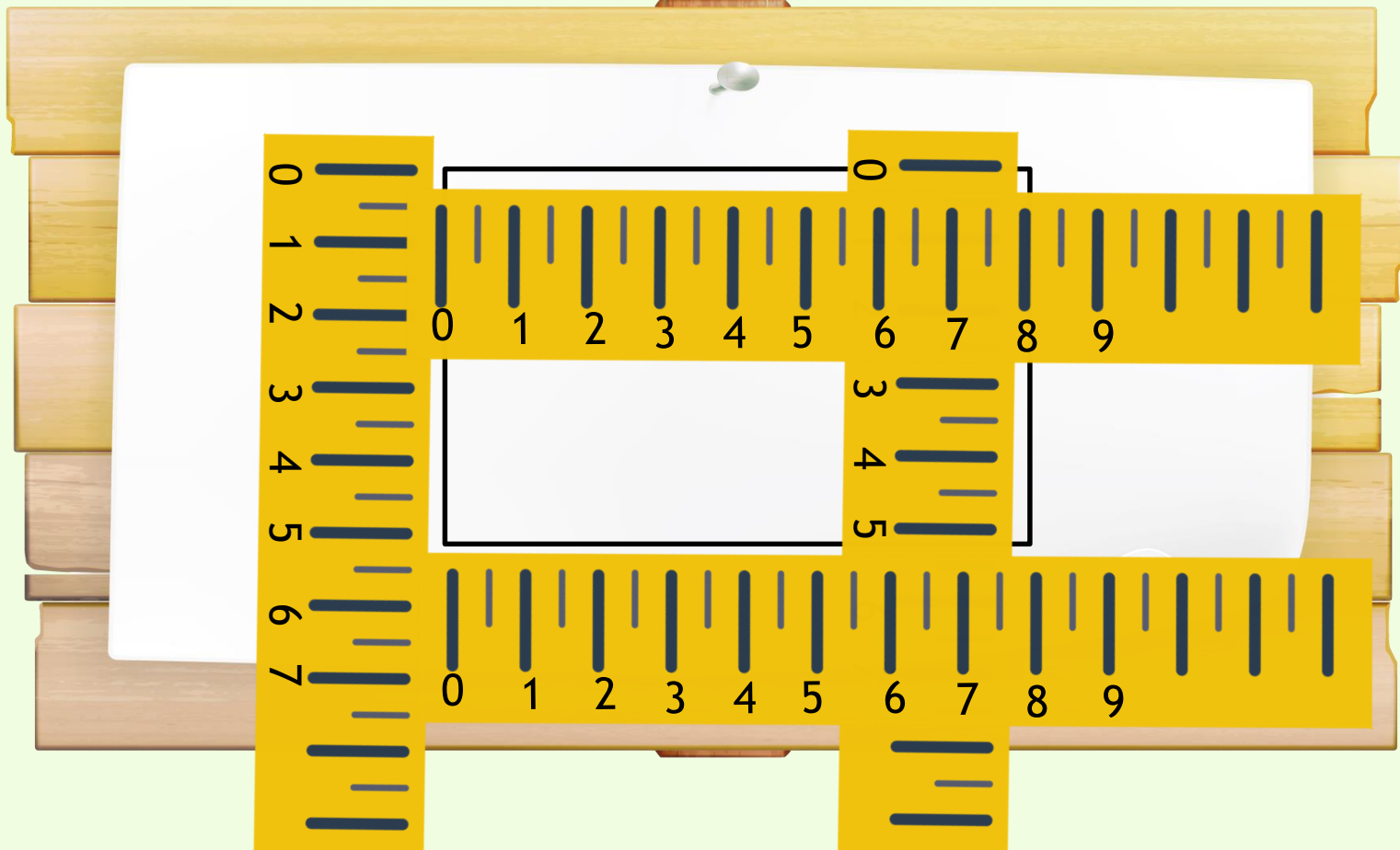










$$5\text{cm} + 5\text{cm} + 8\text{cm} + 8\text{cm} = 26\text{cm}$$






Сумма длин сторон
называется **периметром**.



В древнем Египте границы земельных участков измеряли ходьбой.
Египтяне шли по границе своего участка и измеряли его. Так и появилось слово: **пире** – ходить,
метрос – измерять
ПЕРИМЕТР

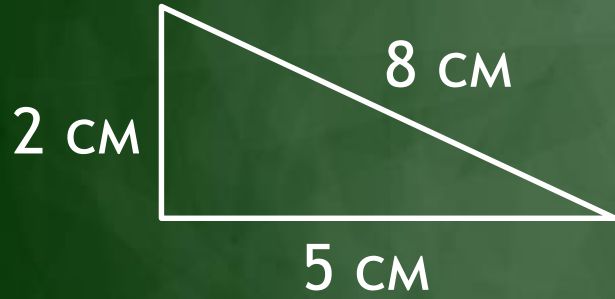


Физминутка

Работа по учебнику с.42



Самостоятельная работа





$$2+5+8=15 \text{ (CM)}$$

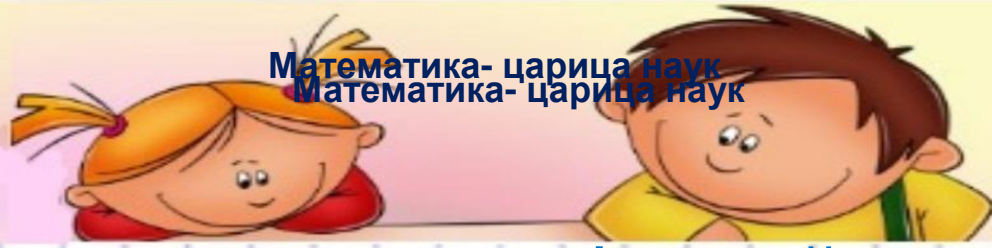


$$6+3+3+4=16 \text{ (CM)}$$



$$3+3+3+3+3+3=18 \text{ (CM)}$$

Математика- царица наук
Математика- царица наук



Лю



ужно

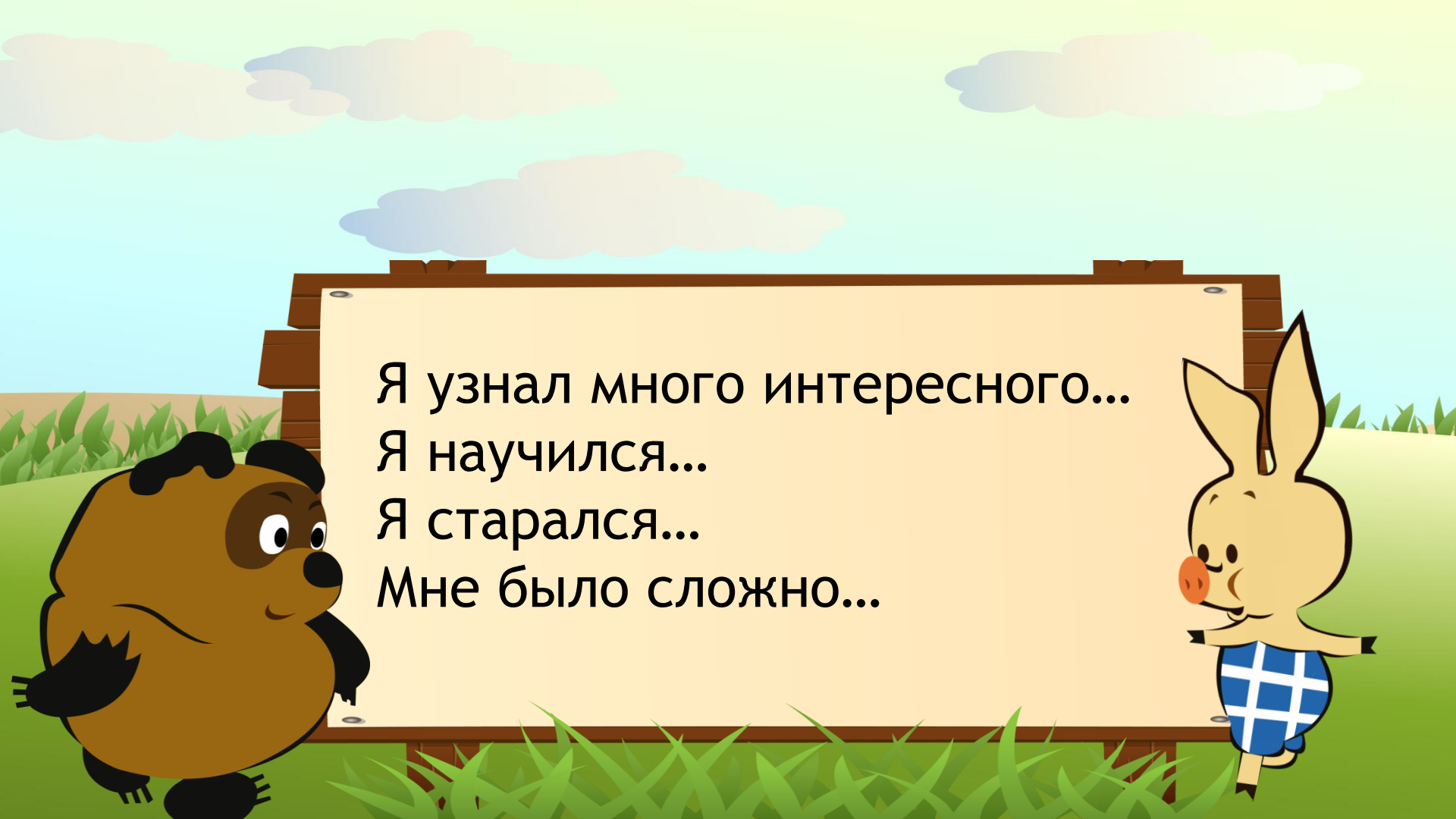
дорожки для бабу

чек почему

Как можно найти периметр
многоугольника?

Периметр — это сумма
длин сторон многоугольника.





Я узнал много интересного...
Я научился...
Я старался...
Мне было сложно...